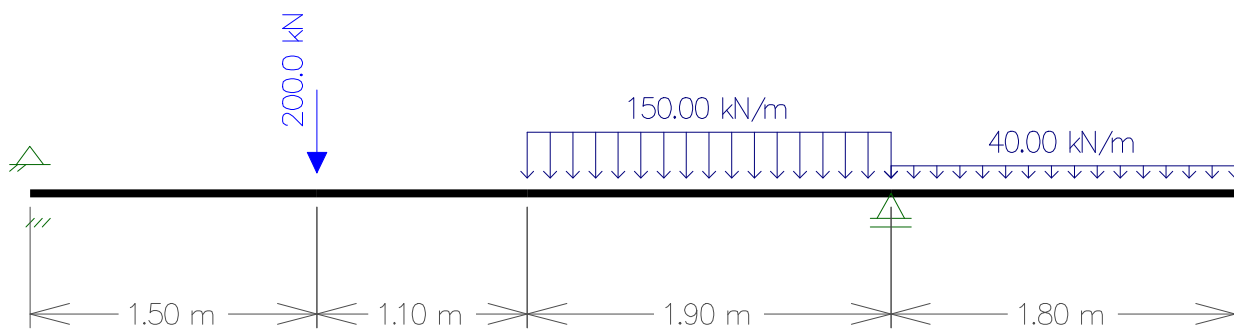
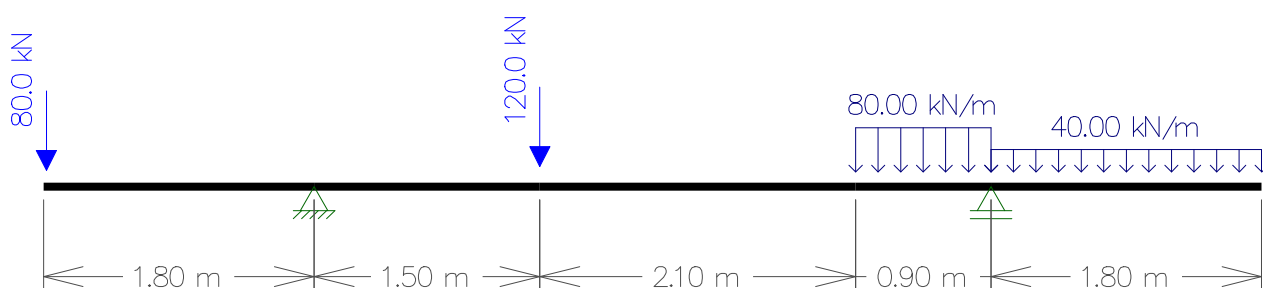


Determinare :

- le reazioni vincolari (0,50)
- le sollecitazioni di taglio (0,70)
- le sollecitazioni del momento (1,00)
- diagramma del taglio in scala (1,30)
- diagramma del momento in scala (1,50)
- le ascisse di taglio nullo (1,00)
- le ascisse momento nullo (1,00)

Punteggio massimo 7,00 per ogni esercizio svolto ,

L'esercizio non svolto o svolto molto parzialmente (inferiore a tre punti) darà luogo alla penalizzazione di 2 punti.



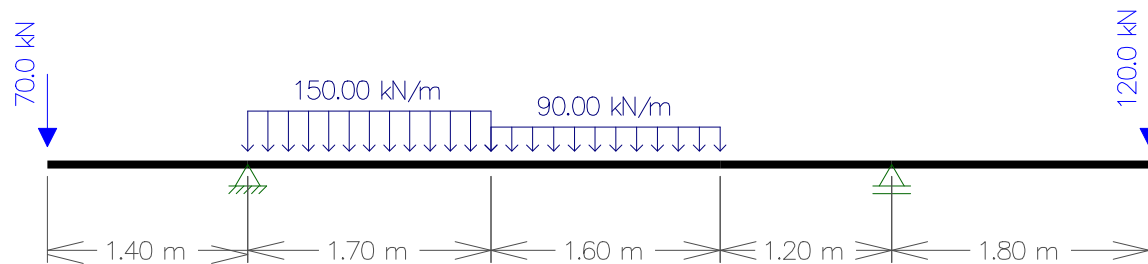
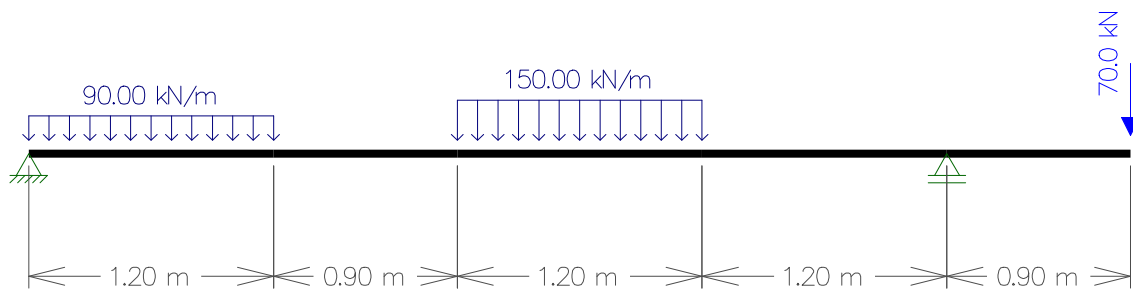
Firma alunno e data : _____

Determinare :

- le reazioni vincolari (0,50)
- le sollecitazioni di taglio (0,70)
- le sollecitazioni del momento (1,00)
- diagramma del taglio in scala (1,30)
- diagramma del momento in scala (1,50)
- le ascisse di taglio nullo (1,00)
- le ascisse momento nullo (1,00)

Punteggio massimo 7,00 per ogni esercizio svolto ,

L'esercizio non svolto o svolto molto parzialmente (inferiore a tre punti) darà luogo alla penalizzazione di 2 punti.



Firma alunno e data : _____